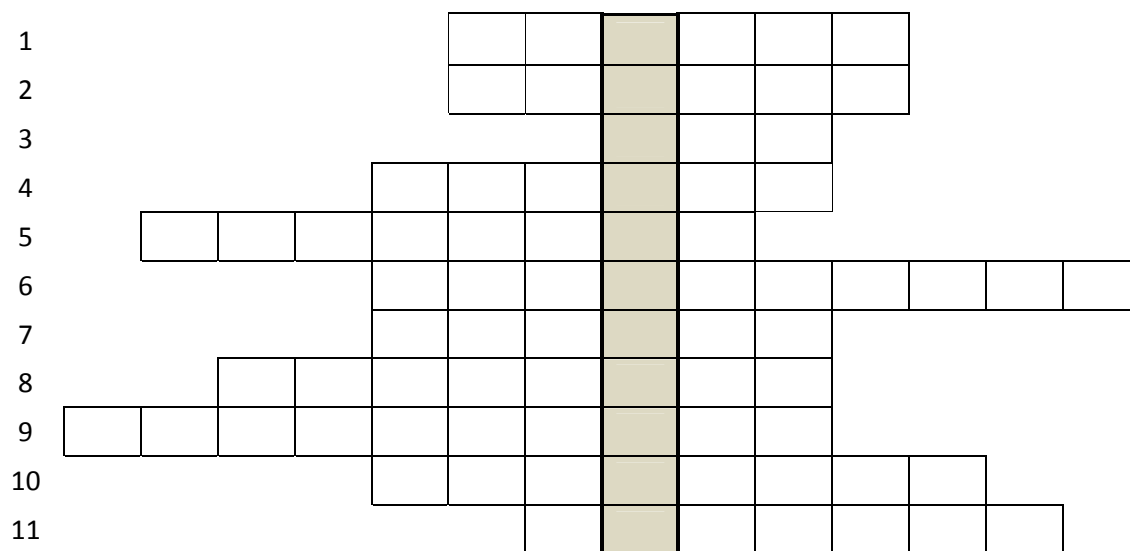


## VZOROVÉ ÚKOLY TESTU VŠEOBECNÝCH ZNALOSTÍ

### 1. DOPLŇOVAČKA

*Po doplnění jednotlivých výrazů vám vyjde tajenka, která ukrývá název vědní discipliny. Uvedte, co tato věda studuje.*











1. Jméno země, kde v Evropě najdete činné sopky a) Polsko, b) Finsko, c) Island.
2. Slovo, které nepatří k ostatním : zmije – krajta – slepýš – užovka .
3. Do kterého století zařadíme rok 1200 ? Zapište římskými číslicemi.
4. Umělecký sloh, jehož typickým znakem je lomený oblouk.
5. Jméno státu, se kterým ČR nesousedí : a) Německo, b) Rakousko, c) Maďarsko.
6. Vláda lidu.
7. Jméno (28.9.) nejvyššího českého patrona.
8. Která zemědělská plodina se v 16.století dostala z Ameriky do Evropy?
9. Věda zabývající se prehistorickými nálezy.
10. Jméno toho, kdo nepatří k ostatním : Poseidón – Dionýsos – Periklés – Héraklés .
11. Nejvyšší představitel kraje.

Tajenka : .....

Věda, která studuje .....

## 2. VYTVOŘTE LOGICKÉ DVOJICE :

<b>A</b>		menhiry	<b>1</b>	bazilika
<b>B</b>		islám	<b>2</b>	Palestina
<b>C</b>		Dórský sloh	<b>3</b>	Lucemburkové
<b>D</b>		Románský sloh	<b>4</b>	neolit
<b>E</b>		Slavníkovci	<b>5</b>	Arabský poloostrov
<b>F</b>		Šalamounův chrám	<b>6</b>	Římská říše
<b>G</b>		Karel IV	<b>7</b>	Řecko
<b>H</b>		zrod křesťanství	<b>8</b>	Libice

<b>A</b>		<b>B</b>		<b>C</b>		<b>D</b>		<b>E</b>		<b>F</b>		<b>G</b>		<b>H</b>	
----------	--	----------	--	----------	--	----------	--	----------	--	----------	--	----------	--	----------	--

## 3. V KAŽDÉM ŘÁDKU NAJDETE JEDNO SLOVO, KTERÉ NEPATŘÍ K OSTATNÍM. TOTO SLOVO PODTRHNĚTE :

- A) Francie – Itálie – Morava – Rakousko – Slovensko
- B) renesance- gotika – baroko- architektura – secese
- C) běhat- chodit- kreslit- skákat- kráčet

#### 4. ZAŠKRTNĚTE SPRÁVNOU ODPOVĚĎ:

Prezidenta republiky volí : a) všichni občané, kteří nebyli zbaveni volebního práva

b) Poslanecká sněmovna ČR

c) Parlament ČR na společné schůzi Poslanecké sněmovny a Senátu

#### 5. KTERÝ VÝROK JE CHYBNÝ (ZAŠKRTNĚTE JEDEN V KAŽDÉ TROJICI):

A- Přemysl Otakar I. obdržel slavnou Zlatou bulu sicilskou

B- Tuto Zlatou bulu sicilskou podepsal papež

C- Tato bula potvrzuje dědičný titul král

A- K pražským gotickým památkám patří Týnský chrám

B- Chrám sv. Mikuláše je barokní

C- Chrám sv. Mikuláše stojí na Václavském náměstí

#### 6. VYSVĚTLETE, JAK VZNIKLA A CO VYJADŘUJÍ TATO ÚSLOVÍ:

Ty jsi lazar-

Tady je to jako po Hirošimě –

Jablkem sváru je....

#### 7. CO ZNAMENAJÍ ZKRATKY:

EU –

OSN-

OH-

OECD-

**8. DOBŘE PŘEMÝŠLEJTE A SPRÁVNÉ ODPOVĚDI ZAPIŠTE DO RÁMEČKU :**

a)



O kolik stupňů se Země otočí kolem své osy za 12 hodin ?

b) Ve kterém případě se teplota hliníkové kuličky nejvíce změnila, jestliže

- A) vzrostla ze  $3^{\circ}\text{C}$  na  $13^{\circ}\text{C}$
- B) poklesla ze  $100^{\circ}\text{C}$  na  $90^{\circ}\text{C}$
- C) vzrostla z  $-5^{\circ}\text{C}$  na  $5^{\circ}\text{C}$
- D) poklesla z  $1^{\circ}\text{C}$  na  $-11^{\circ}\text{C}$

c) Petr, Honza, Eva a Jana odhadovali hmotnost kovové padesátikoruny

- A) Petrův odhad byl 0,6 kg.
- B) Honzův odhad byl 0,1 g.
- C) Eva odhadla hmotnost na 10 g.
- D) Janin odhad byl 400 g.



Kdo z nich odhadl hmotnost padesátikoruny nejlépe ?

**9. NAPIŠTE DO RÁMEČKU DVOJICI ZVÍŘAT, KTERÁ SE MOHOU POTKAT VE VOLNÉ PŘÍRODĚ:**

